

CONCURSUL JUDEȚEAN DE GEOGRAFIE „IONEL ȚUȚĂ”

Ediția a IX-a, 20 ianuarie 2024

Clasa a XII-a

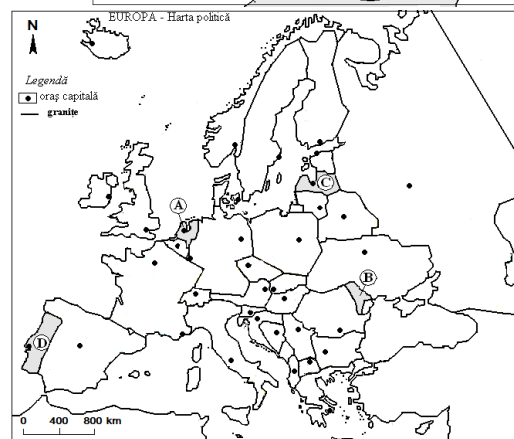
1. *Vulcanul Etna* corespunde punctului de pe hartă marcat cu numărul:

- a. 1
- b. 2
- c. 3
- d. 4



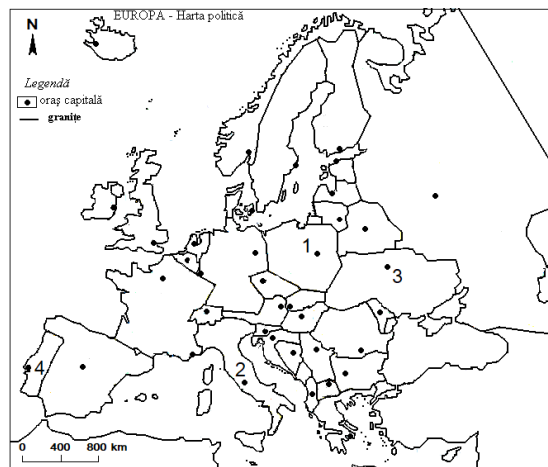
2. *Numele statului* marcat pe hartă cu litera C este:

- a. Estonia
- b. Lituania
- c. Letonia
- d. Polonia



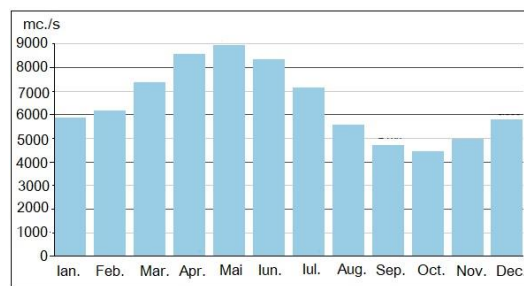
3. *Fluviul Nipru* străbate *orașul capitală* marcat pe hartă cu numărul:

- a. 1
- b. 2
- c. 3
- d. 4



4. Din diagramă reiese faptul că cele *mai mari debite* sunt în anotimpul:

- a. primăvara
- b. vara
- c. toamna
- d. iarna



5. Tabelul prezintă lanțuri montane din Europa. Afirmația: *Sunt formați în orogeneza hercinică și au 1894m altitudine*, corespunde pentru numărul:

Nr.crt.	1	2	3	4
Lanț montan	Alpi	Pirinei	Urali	Scandina-viei

- a. 1
- b. 2
- c. 3
- d. 4

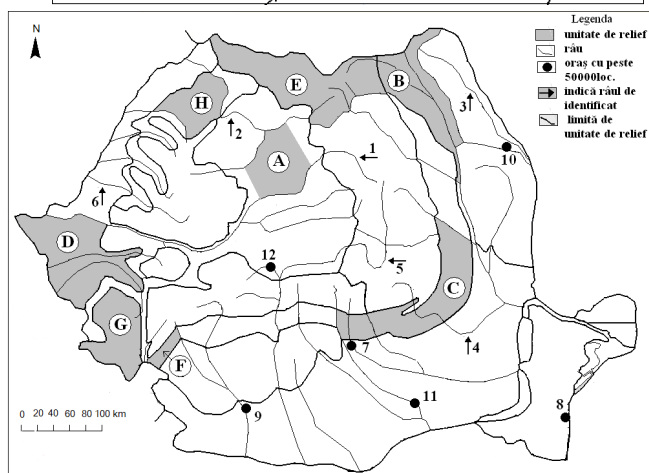
6. Orașul capitală marcat pe hartă cu numărul 2 se numește:

- a. Luxemburg
- b. Amsterdam
- c. Bruxelles
- d. Paris



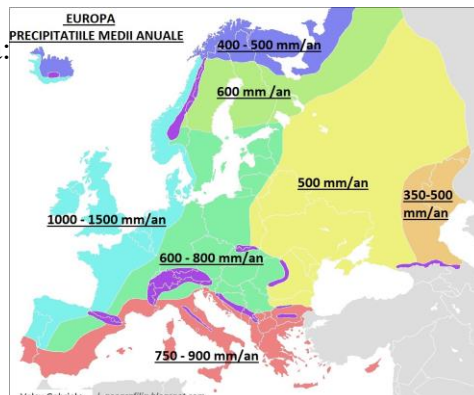
7. Râul marcat pe hartă cu numărul 6 se numește:

- a. Crișul Repede
- b. Barcău
- c. Crișul Alb
- d. Crișul Negru



8. Precipitațiile mai multe din vestul Europei se datorează:

- a. reliefului mai înalt
- b. vânturilor de vest
- c. mareelor
- d. radiației solare mai intense



9. Pentru calculul *densității medii* se aplică formula de la numărul:

- a. 1
- b. 2
- c. 3
- d. 4

Nr. crt.	1	2	3	4
Formula	N - M	P / S	I - E	S / P

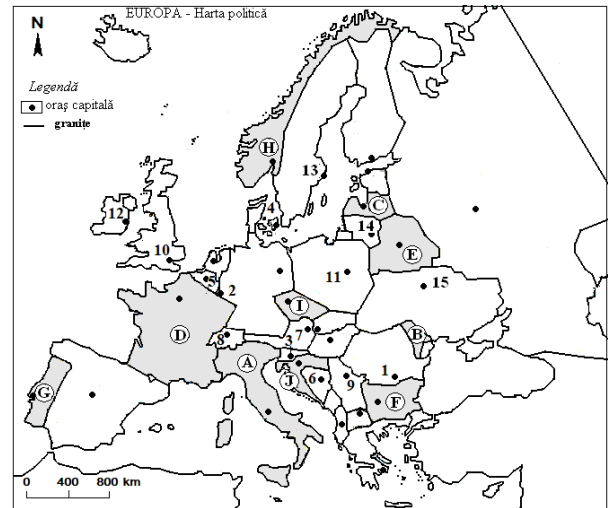
10. Peninsula din imagine se numește:

- a. Iberică
- b. Iutlanda
- c. Kola
- d. Crimeea



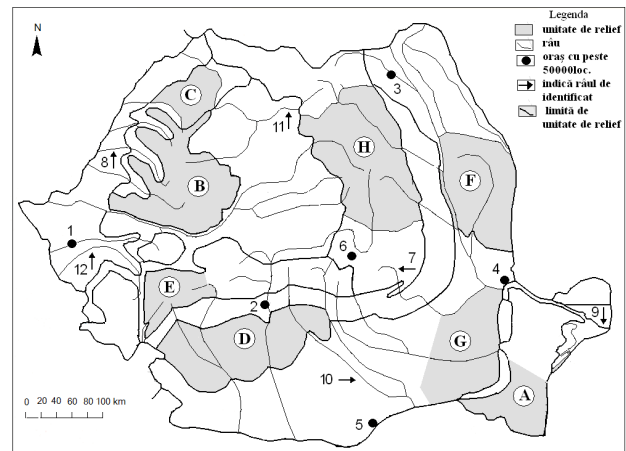
11. În partea sudică a statului marcat pe hartă cu litera H, este climă:

- a. subpolară
- b. de tranziție
- c. subtropicală
- d. oceanică



12. Unitățile de relief marcate cu A și G sunt asemănătoare prin:

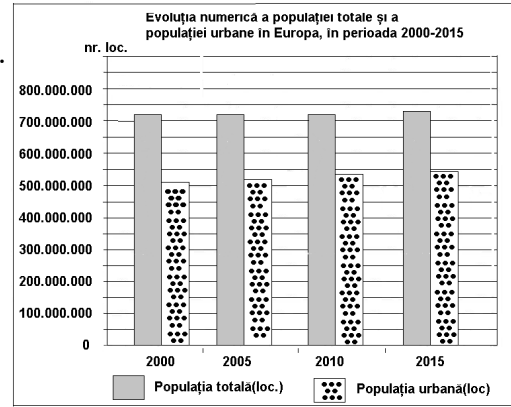
- a. înălțimile de cca. 200 m
- b. forma de relief
- c. stratul de loess
- d. înclinarea vestică



13. Reprezentarea grafică se referă la populația Europei.

În anul 2015, populația rurală era de aproximativ:

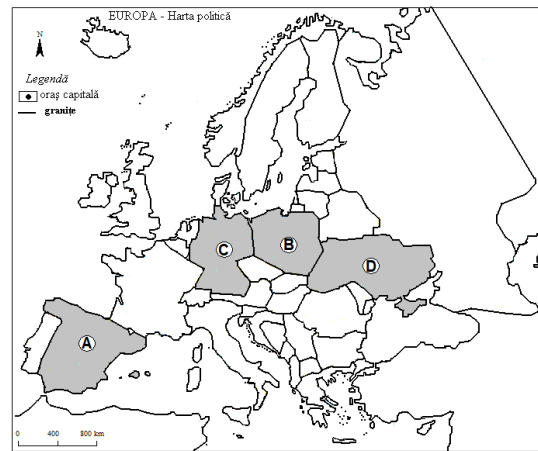
- a. 72000000 loc.
- b. 55000000 loc.
- c. 32000000 loc.
- d. 17000000 loc.



Sursa: INS, Anuarul Statistic 2009

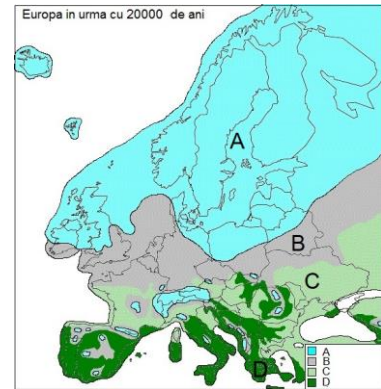
14. Bazinul carbonifer Silezia se află în statul marcat pe hartă cu litera:

- a. A
- b. B
- c. C
- d. D



15. Ghețarii de calotă au acoperit spațiul geografic marcat pe hartă cu litera:

- a. A
- b. B
- c. C
- d. D



RĂSPUNSURI

Întrebare	1	2	3	4	5	6	7	8	9	10	11	12	13	14	15
Răspuns	c	c	c	a	c	c	c	b	b	d	d	c	d	b	a