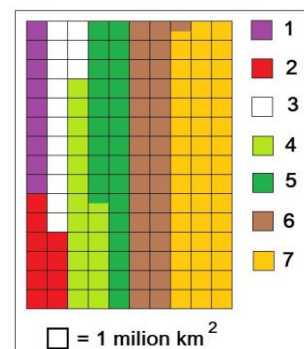


CONCURSUL JUDEȚEAN DE GEOGRAFIE „IONEL ȚUȚĂ”

Ediția a IX-a, 20 ianuarie 2024 Clasa a VII -a

1. Pe schema de alături culorile reprezintă continente, iar un pătrățel este echivalent cu 1 milion de km². Continentului Asia îi corespunde o suprafață de:

- 30,5 mil. km²
- 44,5 mil. km²
- 42 mil. km²
- 14 mil. km²



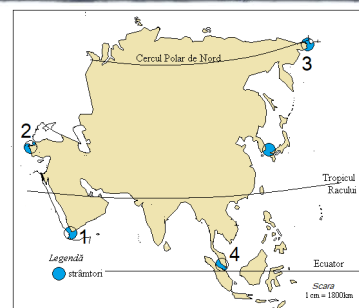
2. Fotografia sugerează faptul că Munții Himalaia:

- au înălțimi reduse
- sunt o barieră pentru nori
- sunt vulcanici
- sunt în șiruri paralele



3. Capul Dejnev se află lângă strâmtoarea marcată cu numărul:

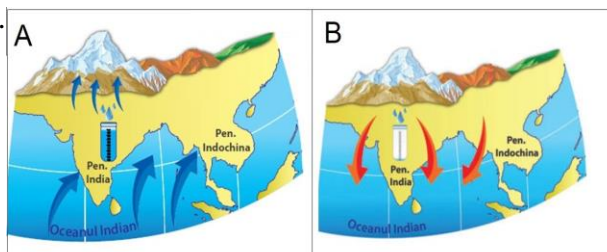
- 1
- 2
- 3
- 4



4. Imaginea are legătură cu vânturile musonice.

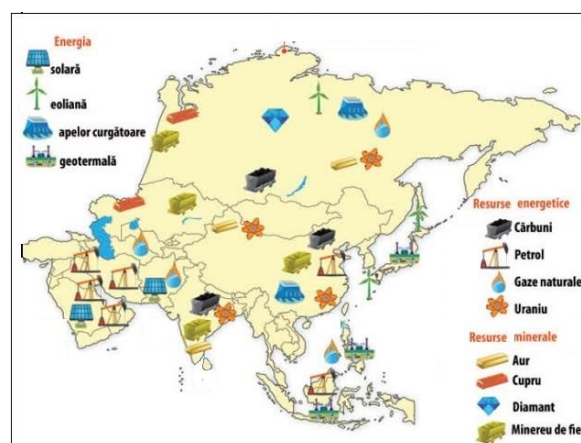
Musonii aduc precipitații multe în situația:

- A pentru că este frig pe continent
- B pentru că este cald pe continent
- A pentru că bat dinspre ocean
- B pentru că bat dinspre continent



5. Pe hartă se observă că energia geotermală este localizată în estul Asiei. Acest fapt se datorează:

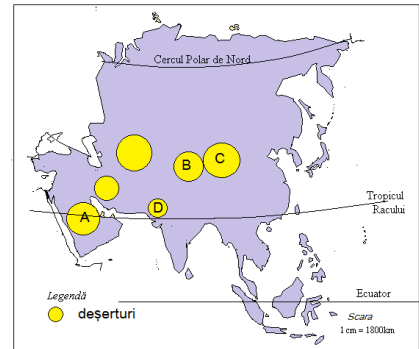
- vecinătății cu oceanul
- existenței numeroaselor insule
- prezenței vulcanismului activ
- vânturilor puternice



6. Pe hartă, cu litere sunt marcate deșerturi din Asia.

Deșertul Thar este marcat cu:

- a. A
- b. B
- c. C
- d. D



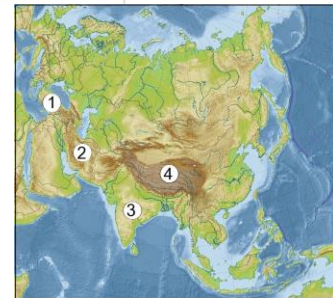
7. Locuitori din *Peninsula Indochina* apar în fotografia marcată cu litera:

- a. A
- b. B
- c. C
- d. D



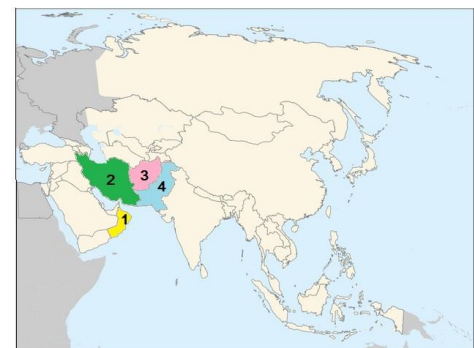
8. *Podișul* situat între Munții Gații de Est și Munții Gații de Vest este marcat cu numărul:

- a. 1
- b. 2
- c. 3
- d. 4



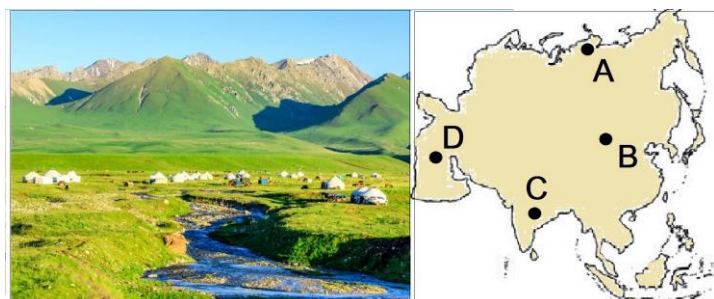
9. Pe hartă, cu numere sunt marcate state. Cu numărul 1 este marcat *statul* numit:

- a. Iran
- b. Oman
- c. Pakistan
- d. Afganistan



10. *Zona de vegetație* din fotografie corespunde, ca localizare pe hartă, punctului marcat cu litera:

- a. A
- b. B
- c. C
- d. D



11. Fluviul de pe hartă străbate *capitalele* marcate cu numerele 1 și 2.

Acestea sunt:

- a. Bangkok și Hanoi
- b. Phnom Penh și Naypyidaw
- c. Bangkok și Vientiane
- d. Vientiane și Phnom Penh



12. În fotografie este *vulcanul Fuji*. Acesta se află pe insula:

- a. Honshu
- b. Hokkaido
- c. Hainan
- d. Taiwan



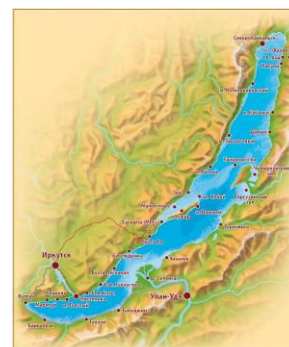
13. În fotografie este un teren cu *orez*. Această plantă se cultivă mult în peninsula:

- a. Arabia
- b. Asia Mică
- c. Indochina
- d. Kamceatka



14. Pentru *lacul* care apare pe hartă se potrivește afirmația:

- a. este vulcanic
- b. se află la limita cu Europa
- c. are apa cea mai sărată
- d. este tectonic



15. *Drumurile suspendate* din mega-orașul Shanghai sunt o soluție pentru:

- a. insuficiența spațiului verde
- b. numărul foarte mare de pietoni
- c. numărul foarte mare de autovehicule
- d. insuficiența energiei electrice



RĂSPUNSURI

Întrebare	1	2	3	4	5	6	7	8	9	10	11	12	13	14	15
Răspuns	b	b	c	c	c	d	c	c	b	b	d	a	c	d	c