

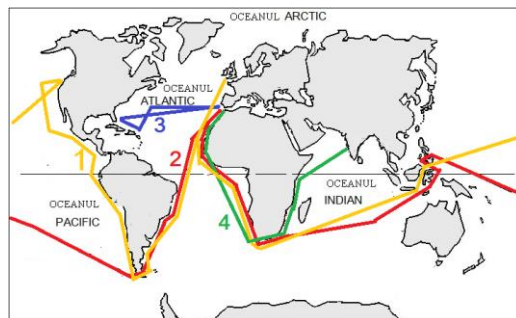
# CONCURSUL JUDEȚEAN DE GEOGRAFIE „IONEL ȚUȚĂ”

Ediția a IX-a, 20 ianuarie 2024

Clasa a VI-a

1. Fernando Magellan a călătorit pe traseul marcat cu numărul:

- a. 1
- b. 2
- c. 3
- d. 4



2. Industria corespunzătoare informațiilor din tabel este:

- a. alimentară
- b. ușoară
- c. chimică
- d. energetică

Materii prime	Exemple de produse
bumbac, in, cânepă, mătase, lână, piele	îmbrăcăminte încălțăminte

3. Harta României de alături este:

- a. fizică
- b. administrativă
- c. rutieră
- d. turistică



4. În fotografia alăturată se observă o persoană care lucrează în:

- a. agricultură
- b. transporturi
- c. industrie
- d. cercetare



5. Resursele de alături pot fi utilizate pentru obținerea energiei electrice. Resursă ecologică este cea cu numărul:

- a. 1
- b. 2
- c. 3
- d. 4



6. În fotografie se observă, ca *așezare*:

- a. oraș
- b. sat liniar
- c. sat adunat
- d. sat răsfirat



7. Folosind scara de proporție și considerând că insula are formă de *dreptunghi* cu lungimea egală de 2 ori cât lățimea, atunci *suprafața* Insulei Groenlanda este de:

- a.  $1200 \times 24000 = 2.880.000 \text{ km}^2$
- b.  $800 \times 16000 = 1.280.000 \text{ km}^2$
- c.  $400 \times 800 = 320.000 \text{ km}^2$
- d.  $0 \times 0 = 0 \text{ km}^2$



8. Aplicația *Waze* este utilă în *transporturile*:

- a. maritime
- b. aeriene
- c. feroviare
- d. rutiere



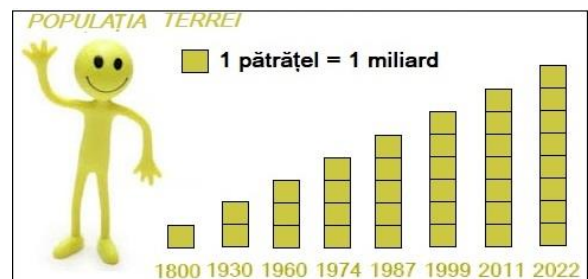
9. Numărul 4 de alături corespunde *țării* numite:

- a. Rusia
- b. Canada
- c. SUA
- d. China



10. Populația Terrei din anul 2022 *era dublul* populației din anul:

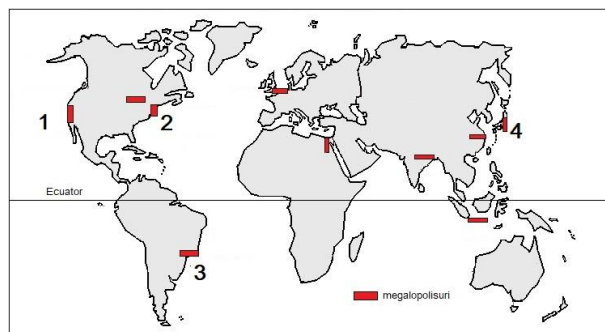
- a. 2011
- b. 1930
- c. 1987
- d. 1974



11. Pentru *reducerea poluării* datorate autovehiculelor, o soluție ar fi:
- intersecțiile semaforizate
  - lărgirea drumurilor
  - mașini electrice
  - mai multe parcări



12. Orașul *Los Angeles* se află în megalopolisul marcat pe hartă, cu numărul:
- 1
  - 2
  - 3
  - 4



13. Pentru calculul *densității medii* se folosește formula de la numărul:
- 1
  - 2
  - 3
  - 4

Nr. crt.	1	2	3	4
Formula	N - M	P / S	I - E	S / P

14. *Oamenii* din fotografie au legătură cu:
- diversitatea rasială
  - evoluția numerică
  - răspândirea geografică
  - mobilitatea teritorială



15. *Obiectivul turistic* marcat pe harta alăturată cu numărul 2 se află în țara numită:
- Brazilia
  - India
  - Italia
  - Egipt



## RĂSPUNSURI

<b>Întrebare</b>	<b>1</b>	<b>2</b>	<b>3</b>	<b>4</b>	<b>5</b>	<b>6</b>	<b>7</b>	<b>8</b>	<b>9</b>	<b>10</b>	<b>11</b>	<b>12</b>	<b>13</b>	<b>14</b>	<b>15</b>
<b>Răspuns</b>	b	b	d	c	c	c	a	d	b	d	c	a	b	d	d