

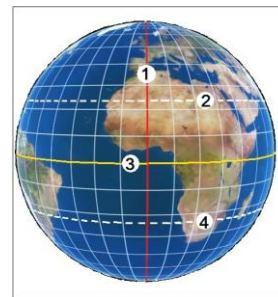
# CONCURSUL JUDEȚEAN DE GEOGRAFIE „IONEL ȚUȚĂ”

Ediția a IX-a, 20 ianuarie 2024

Clasa a V-a


1. *Tropicul Capricornului* este marcat cu numărul:

- a. 1
- b. 2
- c. 3
- d. 4



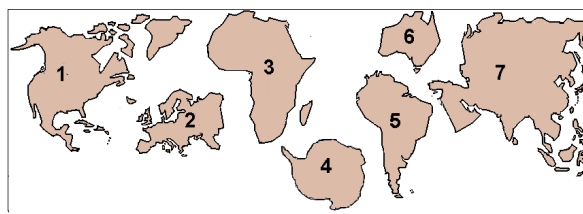
2. *Corpul cosmic* marcat cu litera B, în fotografie, este:

- a. Mercur
- b. Venus
- c. Marte
- d. Luna



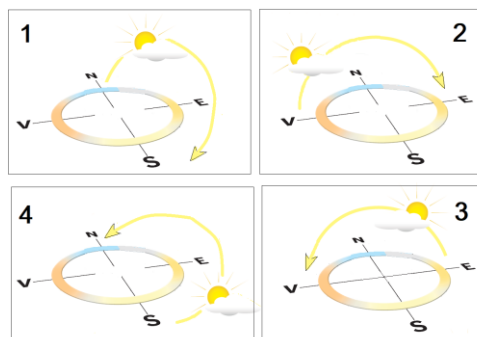
3. *Continentul pe care trăim* este marcat cu numărul:

- a. 1
- b. 2
- c. 5
- d. 6



4. *Desenul corect* cu punctele cardinale și mișcarea Soarelui este cel cu numărul:

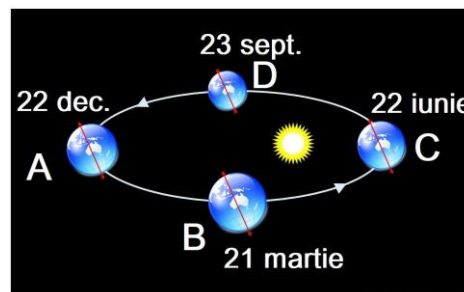
- a. 1
- b. 2
- c. 3
- d. 4



5. *Schema arată* mișcarea de revoluție.

*Ziua cea mai scurtă* corespunde punctului:

- a. A
- b. B
- c. C
- d. D



6. În imagine, *cu litera A* este:

- a. o peninsulă
- b. un istm
- c. un golf
- d. o strâmtoare



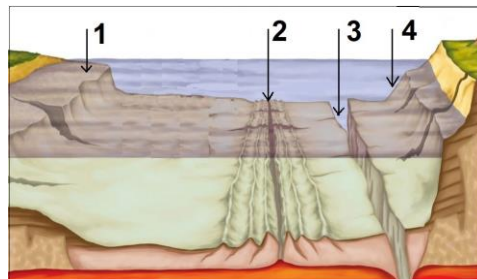
7. Indicatorul rutier din fotografie atrage atenția asupra *orei diferite*. Cauza acestui aspect este legată de:

- a. forme de relief diferite
- b. fuse orare diferite
- c. continentele diferite
- d. anotimpurile diferite



8. Pe schema cu *relieful bazinelor oceanice*, numărul 3 indică:

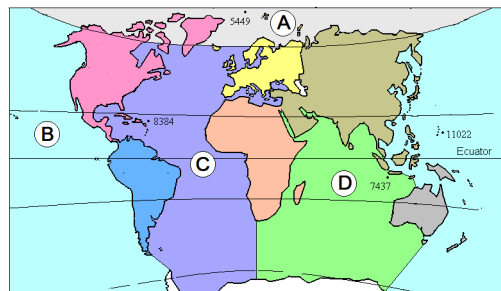
- a. abrupt continental
- b. platformă continentală
- c. dorsală
- d. groapă abisală



9. În imagine, cu litere sunt marcate oceanele.

Este situat *numai în Emisfera nordică*:

- a. A
- b. B
- c. C
- d. D



10. La vulcanul din imagine se observă *partea componentă* numită:

- a. vatră
- b. coș
- c. crater
- d. con



11. În fotografie este forma de relief munte. Linia colorată corespunde părții componente numite:

- a. poale
- b. versant
- c. vârf
- d. creastă




12. Imaginea sugerează faptul că, în caz de cutremur:

- a. să stăm în picioare
- b. să nu ne panicăm
- c. să stăm sub tocul ușii
- d. să rămânem indiferenți




13. Imaginea alăturată înfățișează structura internă a Pământului. Nucleul intern este marcat cu numărul:

- a. 3
- b. 4
- c. 2
- d. 1



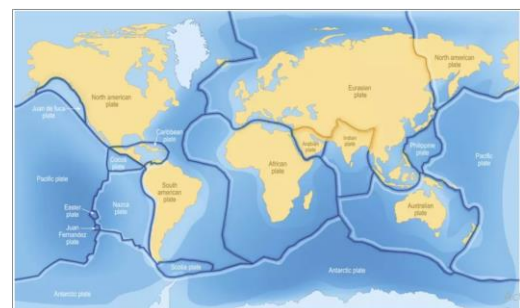
14. Pentru scara grafică de pe schiță, scara numerică corectă este cea de la varianta:

- a. A
- b. B
- c. C
- d. D



15. Pe harta alăturată, liniile cu albastru închis delimitează:

- a. continentele
- b. oceanele
- c. plăcile tectonice
- d. zonele polare



## RĂSPUNSURI

|                  |          |          |          |          |          |          |          |          |          |           |           |           |           |           |           |
|------------------|----------|----------|----------|----------|----------|----------|----------|----------|----------|-----------|-----------|-----------|-----------|-----------|-----------|
| <b>Întrebare</b> | <b>1</b> | <b>2</b> | <b>3</b> | <b>4</b> | <b>5</b> | <b>6</b> | <b>7</b> | <b>8</b> | <b>9</b> | <b>10</b> | <b>11</b> | <b>12</b> | <b>13</b> | <b>14</b> | <b>15</b> |
| <b>Răspuns</b>   | d        | d        | b        | c        | a        | d        | b        | d        | a        | d         | d         | c         | b         | d         | c         |