

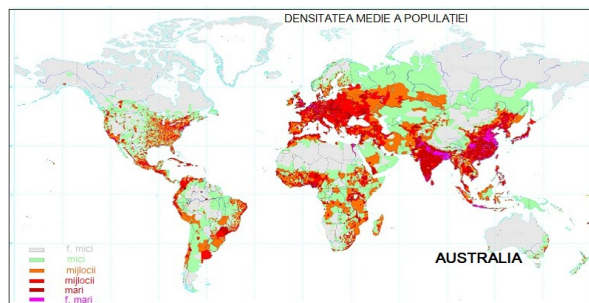
CONCURSUL JUDEȚEAN DE GEOGRAFIE „IONEL ȚUȚĂ”

Ediția a VII-a, 19 februarie 2022

Clasa a X-a

1. Densitatea medie dominantă din Australia se datorează :

- a. slabei dezvoltări economice
- b. reliefului predominant de câmpie
- c. regimului politic totalitar
- d. suprafețelor deșertice extinse



2. Pe fragmentul de hartă teritoriu dependent este:

- a. Barbados
- b. Dominica
- c. Martinica
- d. St. Lucia



3. Formă compactă și capitală centrală are :

- a. Burkina Faso
- b. Nigeria
- c. Sierra Leone
- d. Togo



4. Algeria are frontieră geometrică în zona marcată cu cifra:

- a. 1
- b. 2
- c. 3
- d. 4



5. Imaginea alăturată coresponde unei modificări a hărții politice prin :

- a. unificare pașnică
- b. divizare prin conflict
- c. divizare pașnică
- d. unificare prin conflict



6. Mediul de viață care are corespondent numai în emisfera nordică este marcat cu numărul:

- a. 1
- b. 2
- c. 3
- d. 4



7. În imagine apare poluarea cu dioxid de sulf.

În zona A poluarea se datorează :

- a. populației numeroase
- b. industriei dezvoltate
- c. climei
- d. exploatării de resurse



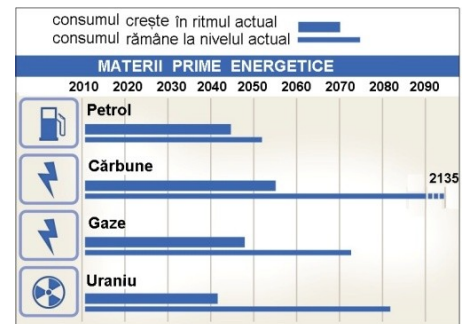
8. Rata mare de fertilitate din Africa se datorează:

- a. climei calde
- b. urbanizării ridicate
- c. politicilor demografice
- d. statutului femeii în societate



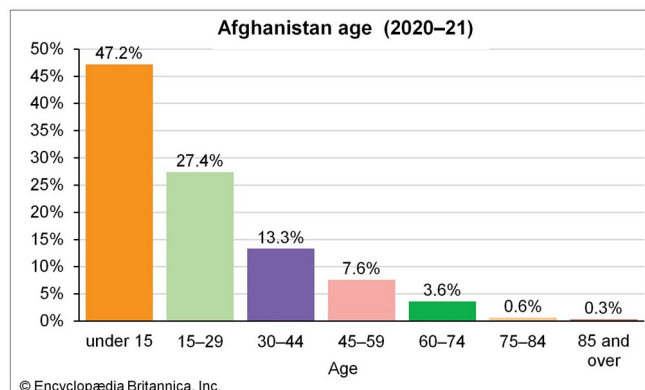
9. Diagrama alăturată sugerează o problemă actuală de geografie politică și anume :

- a. conflictele militare
- b. creșterea rapidă a numărului populației
- c. poluarea
- d. epuizarea resurselor



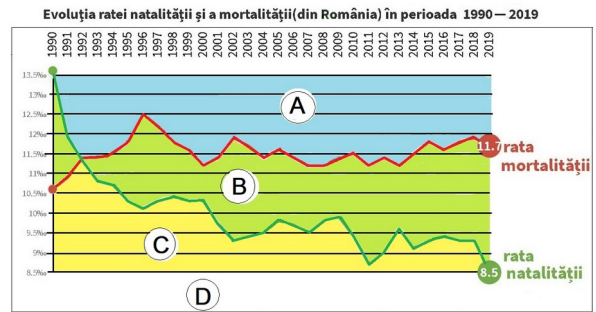
10. Diagrama pe grupe de vârstă pentru Afganistan arată:

- a. pondere mare a populației vârstnice
- b. pondere mare a populației tinere
- c. pondere echilibrată pe grupe de vârstă
- d. predominarea populației adulte



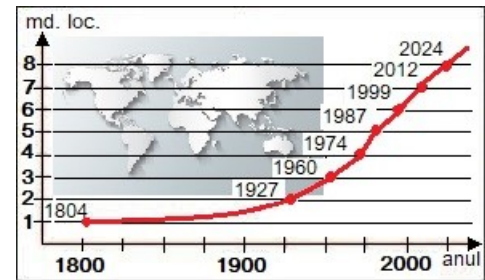
11. Pe graficul alăturat evoluția bilanțului natural este observabilă în spațiul marcat cu litera :

- a. A
- b. B
- c. C
- d. D



12. Graficul alăturat arată :

- a. evoluția numerică a populației pe continente
- b. etapele evoluției numerice a populației lumii
- c. care va fi numărul maxim de locuitori
- d. evoluția pe intervale de câte 1 miliard de locuitori



13. Imaginea alăturată are legătură cu mortalitatea infantilă.

Valoarea corectă pentru Pakistan este:

- a. 1%
- b. 50%
- c. 48‰
- d. 46‰



14. În fotografie se observă populație:

- a. din toate grupele de vârstă
- b. adultă
- c. tânără
- d. vârstnică



15. Piramida demografică pentru Japonia ce arată echilibru, corespunde anului:

- a. 1940
- b. 1975
- c. 2000
- d. 2010

