

CONCURSUL ȘCOLAR JUDEȚEAN "TERRA ȘI MILENIUL III"

Ediția a V-a, 2 aprilie 2022

CLASA A IV-A

Varianta 1

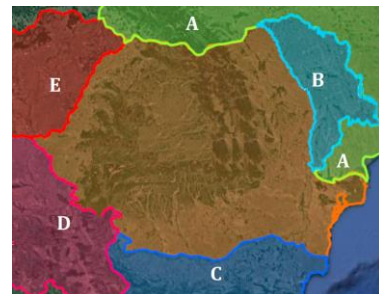
SUBIECTUL I

70 puncte (10x7p)

Scrieți pe foaia de concurs litera corespunzătoare răspunsului corect:

1. Numele statului cu care România se învecinează, notat pe hartă cu litera **D** este:

- a. Ungaria
- b. Ucraina
- c. Serbia
- d. Bulgaria

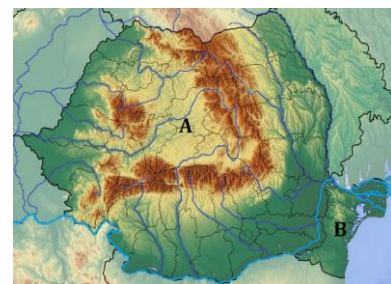


2. Pentru a reda forma Pământului cea mai eficientă redare grafică este:

- a. Desenul geografic
- b. Planul
- c. Globul geografic
- d. Harta

3. Unitățile de relief notate pe harta alăturată cu literele **A** și **B** sunt:

- a. Câmpia Română și Podișul Dobrogei
- b. Podișul Transilvaniei și Podișul Dobrogei
- c. Podișul Transilvaniei și Delta Dunării
- d. Podișul Getic și Delta Dunării

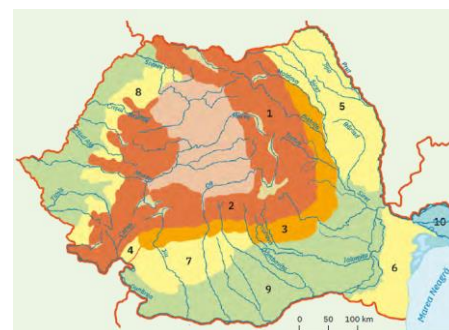


4. Dimensiunile elementelor au fost micșorate de mai multe ori atunci când ai redat planul:

- a. cartierului
- b. școlii
- c. orașului
- d. clasei

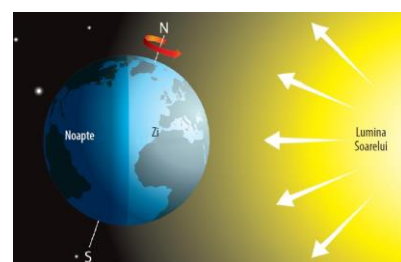
5. Dintre unitățile de relief reprezentate pe harta alăturată, o unitate de câmpie este:

- a. 7
- b. 9
- c. 5
- d. 6



6. Formarea zilelor și a nopților este consecința:

- a. Mișcării Pământului în jurul axei sale
- b. Formei sferice a Pământului
- c. Mișcării Pământului în jurul Soarelui
- d. Înclinării axei Pământului



7. Pădurile ocupă suprafețe mai mari în zonele de:

- a. câmpie
- b. podiș
- c. deal
- d. munte

8. Brațul nordic al Dunării la vărsare în Marea Neagră este:

- a. Chilia
- b. Sf. Gheorghe
- c. Stipoc
- d. Sulina



9. În care dintre imaginile alăturate linia orizontului nu este subliniată corect:

- a. d
- b. a
- c. c
- d. b



10. Tipul de sat reprezentat în imaginea alăturată este specific formei de relief:

- a. câmpie
- b. deal
- c. munte
- d. podiș



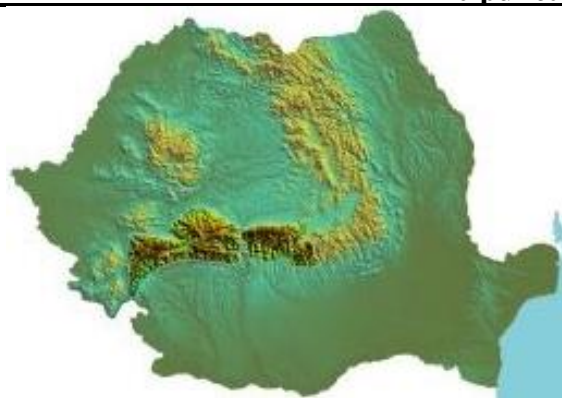
Sat risipit

SUBIECTUL II

20 puncte

Pentru unitatea montană accentuată din imaginea alăturată:

1. Scrieți numele acestei unități de relief.
2. Numiți unitatea deluroasă cu care se învecinează în sud.
3. Numiți direcția pe care se desfășoară această unitate de relief.
4. Scrieți numele celui mai important râu care o străbate.



Notă: Toate subiectele sunt obligatorii. O singură variantă de răspuns este corectă.

Timul de lucru este de 60 minute.

Se acordă 10 puncte din oficiu.

Barem de evaluare și notare
Clasa a IV-a

SUBIECTUL I

70 puncte

Se acordă 70 de puncte, câte 7 puncte pentru fiecare răspuns corect:

1	2	3	4	5	6	7	8	9	10
c	c	b	c	b	a	d	a	d	c

Total= 10x7= 70 puncte

SUBIECTUL II

20 puncte

Se acordă 20 de puncte, câte 5 puncte pentru fiecare răspuns corect:

1. Carpații Meridionali.
- 2 Subcarpații Getici.
3. V-E.
4. Olt.

Total= 4x5p= 20 puncte

- Se acordă 10 puncte din oficiu.