

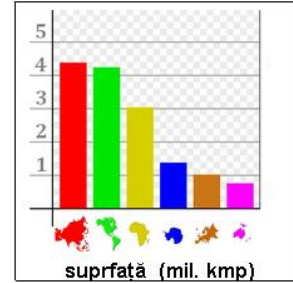
CONCURSUL JUDEȚEAN DE GEOGRAFIE „IONEL ȚUȚĂ”

Ediția a V-a, 9 martie 2019, Clasa a VII -a, Varianta 1

Subiectul I. 70 p (10 x 7)

1. Din graficul alăturat reiese că suprafața Asiei este de:

- a. 3 mil.kmp
- b. 4,2 mil kmp
- c. 4,4 mil kmp
- d. 5 mil kmp



2. Imaginea arată că Asia este :

- a. traversată de Ecuator
- b. mai mare decât America de Sud
- c. unită de Europa
- d. în Emisfera sudică



3. Peninsula vizibilă în imagine,este localizată:

- a. pe țărmul vestic al Asiei
- b. pe țărmul sudic al Asiei
- c. pe țărmul estic al Asiei
- d. pe țărmul nordic al Asiei



4. Polul ploii(Cherrapunji) corespunde punctului:

- a. 1
- b. 2
- c. 3
- d. 4



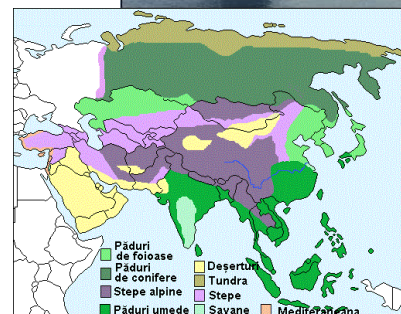
5. Vulcanul Krakatau, din imagine, este localizat în:

- a. Peninsula Kamceatka
- b. Peninsula Coreea
- c. Arhipelagul Japonez
- d. Arhipelagul Indonezian

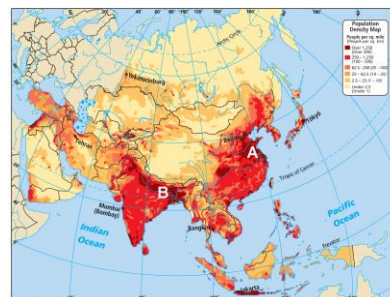


6. În condițiile unui climat rece s-au format:

- a. pădurile umede
- b. savanele
- c. pădurile de foioase
- d. pădurile de conifere

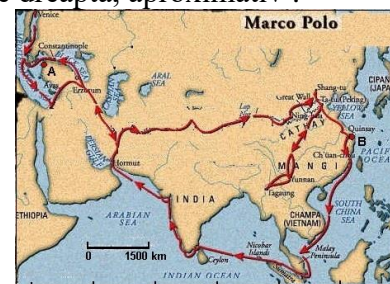


7. Densitățile mari din zonele A și B au legătură cu:
- clima secetoasă
 - relieful montan
 - solurile fertile
 - lipsa fluviilor



8. Călătorul Marco Polo a parcurs între punctele A și B, în linie dreaptă, aproximativ :

- 1500 km.
- 7500 km
- 9000 km
- 6000 km



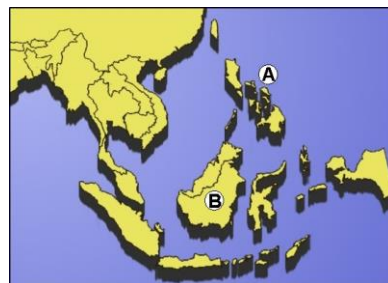
9. În fotografia alăturată apar indicii pentru recunoașterea țării numită

- Turcia
- China
- India
- Japonia



10. Arhipelagurile marcate cu A și B au ca element comun faptul că.

- sunt traversate de Ecuator
- au populație din rasa asiatică(galbenă)
- sunt în zona de acțiune a vânturilor musonice
- prezintă vulcani activi



Subiectul II. 20 p (4 x 5)

Cea mai mare peninsulă a continentului Asia este intersectată de o linie geografică importantă, are în vecinătate două strâmțori importante și aparține în cea mai mare parte unei țări care-i poartă numele.

- Scrieți numele peninsulei.
- Scrieți numele liniei geografice ce intersectează peninsula.
- Scrieți numele strâmțorilor.
- Scrieți numele țării.

Din oficiu 10p

CONCURSUL JUDEȚEAN DE GEOGRAFIE „IONEL ȚUȚĂ”
Ediția a V-a, 9 martie 2019

Clasa a VII-a

BAREM DE CORECTARE ȘI EVALUARE

Sub. I 70 p (10 x 7)

Nr. întrebare	1	2	3	4	5	6	7	8	9	10
Raspuns corect	c	c	b	a	d	d	c	b	d	d

Sub. II 20 p(4 x 5)

1. Arabică/Arabia
2. Tropicul Racului
3. Bab el Mandeb, Ormuz
4. Arabia Saudită

Oficiu 10 p