

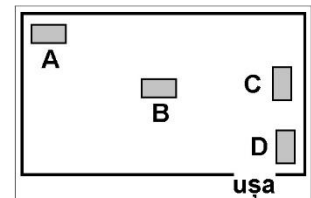
CONCURSUL JUDEȚEAN DE GEOGRAFIE „IONEL ȚUȚĂ”

Ediția a V-a, 9 martie 2019, Clasa a IV-a, Varianta 1

Subiectul I. 70 p (10 x 7)

1. Pe planul clasei poziția corectă a catedrei este:

- a. A
- b. B
- c. C
- d. D



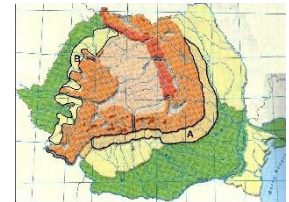
2. Forma de relief în care se află lacul din imagine este :

- a. pdiș
- b. munte vulcanic
- c. deal
- d. delta



3. Pe harta fizică a României, cu literele A și B sunt unitățile de relief:

- a. Podișul Getic și Podișul Moldovei
- b. Carpații Occidentali și Carpații Meridionali
- c. Câmpia de Vest și Câmpia Română
- d. Dealurile de Vest și Subcarpații



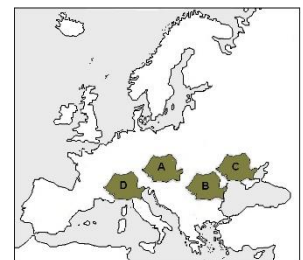
4. Fereastra bisericii marcată cu numărul 1 este către punctul cardinal:

- a. Nord
- b. Sud
- c. Est
- d. Vest



5. Litera corespunzătoare așezării corecte a României în Europa este:

- a. A
- b. B
- c. C
- d. D



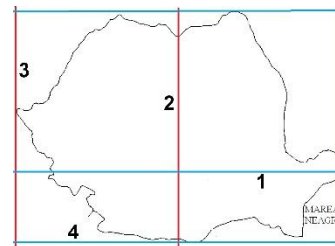
6. O depresiune importantă din unitatea de relief "luminată" este :

- a. Transilvaniei
- b. Petroșani
- c. Zarand
- d. Brașov



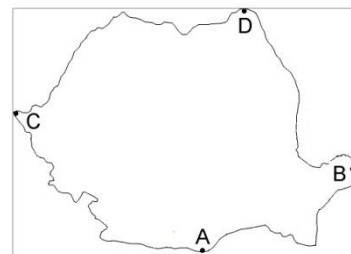
7. Paralela de 45° este marcată cu numărul:

- a. 1
- b. 2
- c. 3
- d. 4



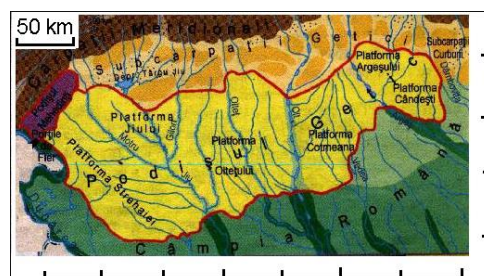
8. Punctul extrem Zimnicea este marcat cu litera:

- a. A
- b. D
- c. B
- d. C



9. Distanța maximă est-vest a Podișului Getic este de:

- a. 150 km
- b. 250 km
- c. 350 km
- d. 50 km



10. Unitățile de relief marcate cu numerele 1 și 2 au în comun faptul că:

- a. sunt în sudul țării
- b. au aceeași formă de relief
- c. se învecinează cu Marea Neagră
- d. au aceleași înălțimi



Subiectul II. 20p (4 x 5)

O formă de relief are înălțimi sub 300 m și formează aproximativ un cerc ca și celelalte mari forme de relief ale României. Scrieți :

1. Denumirea formei de relief.
2. Două exemple de astfel de forme de relief din România.
3. Care este poziția cercului format de acest relief pe teritoriul țării.
4. Utilizarea economică principală a acestei forme de relief.

Din oficiu se acordă 10 p

CONCURSUL JUDEȚEAN DE GEOGRAFIE „IONEL ȚUȚĂ”
Ediția a V-a, 9 martie 2019

Clasa a **IV**-a

BAREM DE CORECTARE ȘI EVALUARE

Sub. I 70 p(10 x 7)

Nr.întrebare	1	2	3	4	5	6	7	8	9	10
Raspuns corect	c	b	d	b	b	D	a	a	c	c

Sub. II 20 p(4 x 5)

1. câmpie
2. Câmpia de Vest, Câmpia Română
3. pe marginea teritoriului / la exteriorul celorlalte cercuri de relief
4. pentru agricultură

Oficiu 10 p